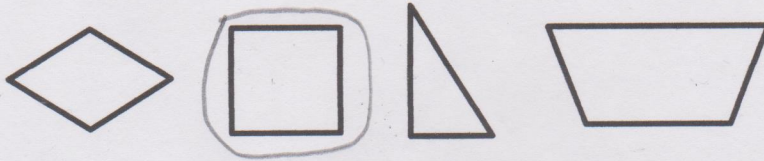




1. Lingkari bangun datar di bawah ini yang termasuk segi empat.



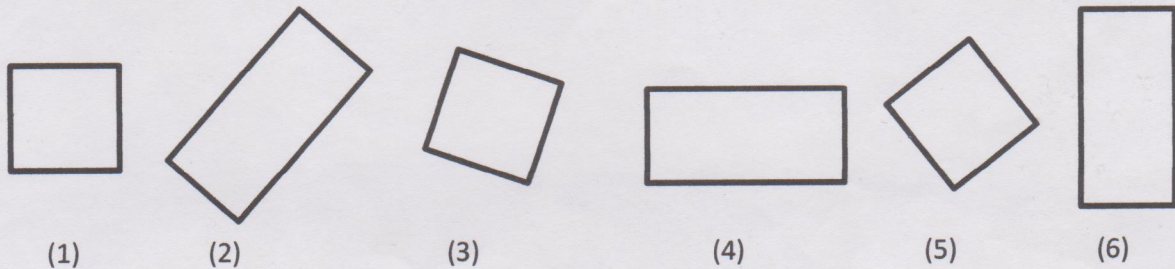
2. Lingkari bangun datar di bawah ini yang termasuk segi empat.



3. Lingkari bangun datar di bawah ini yang termasuk jajar genjang.




4. Perhatikan semua bangun atar di bawah ini!



Pada gambar di atas, tulislah bangun datar bernomor yang mana saja yang termasuk kelompok atau jenis persegi? 1, dan 3.

5. Lingkari bangun datar di bawah ini yang termasuk bangun datar segitiga dan berilah nama bangun tersebut!



segitiga samakaki

segitiga samakaki

segitiga sembarang

segitiga siku-siku